


ВЕСЁЛАЯ ПРОГУЛКА




1 Давай соберёмся на прогулку! На улице холодно, поэтому нам понадобятся тёплые вещи. Раскрась в каждом прямоугольнике лишнее.





2 Заполни пропуски в каждом ряду.



3 Когда наступает зима, на улице становится холодно. Какую одежду тогда нам нужно надевать? Обведи в кружок.



4 Распутай нитки и узнай, какого цвета шапка, а какого — шарф.



5 Нарисуй на зонтиках узоры: на левом зонтике — цветы, на правом — кружочки, а тот зонт, что посередине, раскрась в жёлтый цвет.







6 Сколько детей на каждой картинке? Запиши полученное число в кружок.



7 Составь рассказ по картинке.




- 4 Заполни пустые клетки так, чтобы в каждом ряду и в каждом столбике встречались все картинки.

| | | | |
|---|---|---|---|
| | | |  |
| | |  | |
|  | | | |
| |  | | |

- 5 Дорисуй круги так, чтобы получились всем известные предметы.


Например:




- 6 Подумай и реши задачи.

1. Маша и Настя рисовали разными красками — красной и оранжевой. Настя не рисовала красной. Какой краской рисовала Маша?
2. Дима подошёл к окну и сказал: «Какая же красивая осень!» Почему он сделал такой вывод?
3. Катя и Вася рисовали вместе картину три часа. Сколько времени рисовал каждый из них?

7 У Вани три карандаша. Красный карандаш короче зелёного и синего. А синий — длиннее зелёного. Раскрась карандаши в нужные цвета.



8 Определи, в какой последовательности был нарисован рисунок, и расставь цифры.



9 Дети пришли в детский сад. Рассмотрни картинку и ответь на вопросы.

1. Сколько мальчиков и девочек изображено на картинке?

2. Что делает каждый из них?

3. Кто с ними играет?


4. Какие игрушки ты видишь на картинке?

5. Что рисует мальчик?

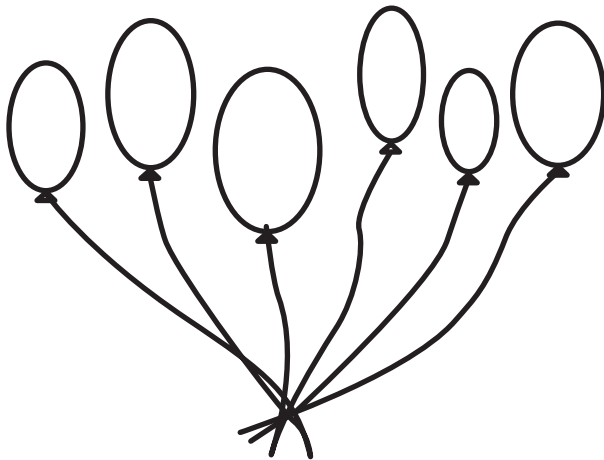


В МИРЕ ЧИСЕЛ


- 1 По сколько карандашей достанется ребятам?
Раскрась картинку.




- 2 Раскрась воздушные шары так, чтобы синих было больше всего, жёлтых — меньше всего, а красных — два.



- 3 Сколько останется яблок в корзине, если съесть из неё 3 яблока? 2 яблока? 7 яблок?





4 Увеличь цифры.

| | |
|---|---|
| 1 | 1 |
| 2 | |
| 3 | |
| 4 | |

Уменьши цифры.

| | |
|---|---|
| 5 | 5 |
| 2 | |
| 4 | |
| 8 | |

5 В пустые клетки впиши цифры так, чтобы ни в ряду, ни в столбике они не повторялись.


2 2 2

4 4 4


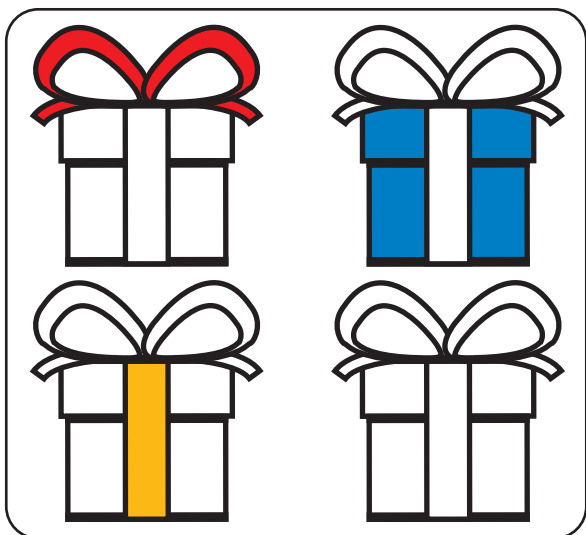
6 6 6

| | | |
|--|--|--|
| | | |
| | | |
| | | |

6 Раскрась пятый вагончик зелёным цветом, второй — жёлтым цветом, остальные вагончики — красным.



8 Сделай рисунки одинаковыми.



9 Подбери каждому торту недостающую часть, соедини их линией.



10 Девочке подарили на день рождения две ленточки — жёлтую и красную.

Длинная лента не жёлтая, а короткая — не красная. Раскрась ленты.

