

Серия «Пиши-читай»

Любовь СВИЧКАРЁВА

МАТЕМАТИКА

ПРОВЕРЬ СВОИ ЗНАНИЯ



рабочая тетрадь
для
1
КЛАССА

Ростов-на-Дону



2022

УДК 373.167.1:51

ББК 22.1я72

КТК 444

С24

Свичкарёва, Любовь.

С24 Математика : проверь свои знания : рабочая тетрадь для 1 класса / Любовь Свичкарёва. — Ростов н/Д : Феникс, 2022. — 40 с. : ил. — (Пиши-читай).

ISBN 978-5-222-38010-9

Крепкая основа знаний — залог будущего успеха в учёбе. Данное пособие разработано специально для закрепления знаний по математике для учащихся 1 класса, а также для выявления пробелов в знаниях ребёнка. Система заданий и упражнений построена по принципу от простого к сложному. Пособие содержит задания предметного характера, которые требуют практических действий для их решения.

Пособие способствует:

- усвоению счёта в пределах 20;
- усвоению приёмов решения примеров и задач;
- расширению объёма оперативной памяти;
- развитию основ логического мышления;
- развитию пространственного воображения;
- улучшению мелкой моторики;
- развитию самоконтроля.

УДК 373.167.1:51

ББК 22.1я72

ЕАС

Учебно-методическое издание

СВИЧКАРЁВА Любовь Сергеевна

0+

**МАТЕМАТИКА. ПРОВЕРЬ СВОИ ЗНАНИЯ
РАБОЧАЯ ТЕТРАДЬ ДЛЯ 1 КЛАССА**

Имеющиеся в рисунках мелкие детали (менее 5 мм) не являются элементами раскраски и для раскрашивания не рекомендованы.

Ответственные редакторы *О. Морозова,
Н. Калиничева*
Технический редактор *Г. Логвинова*

Формат 84 × 108¹/₁₆. Бумага офсетная. Тираж 2500 экз. Заказ №

Издатель и Изготовитель: ООО «Феникс»
Юр. и факт. адрес: 344011, Россия, Ростовская обл.,
г. Ростов-на-Дону, ул. Варфоломеева, 150.
Тел./факс: (863) 261-89-50, 261-89-59.

Изготовлено в России. Дата изготовления: 07.2022.
Срок годности не ограничен

Отпечатано в ООО «Принт-М»
142300, Россия, Московская обл., г. Чехов, ул. Полиграфистов 1 /
Корпус Производственный Б, помещение 279, этаж 4.

ISBN 978-5-222-38010-9

© Свичкарёва Л., 2022

© Оформление: ООО «Феникс», 2022

© Shutterstock.com, ил.



Занятие 1



СЧЁТ ПРЕДМЕТОВ. СКОЛЬКО? КАКОЙ?


1

Посчитай детей и их питомцев вместе. Сколько их всего? Обведи нужное число.



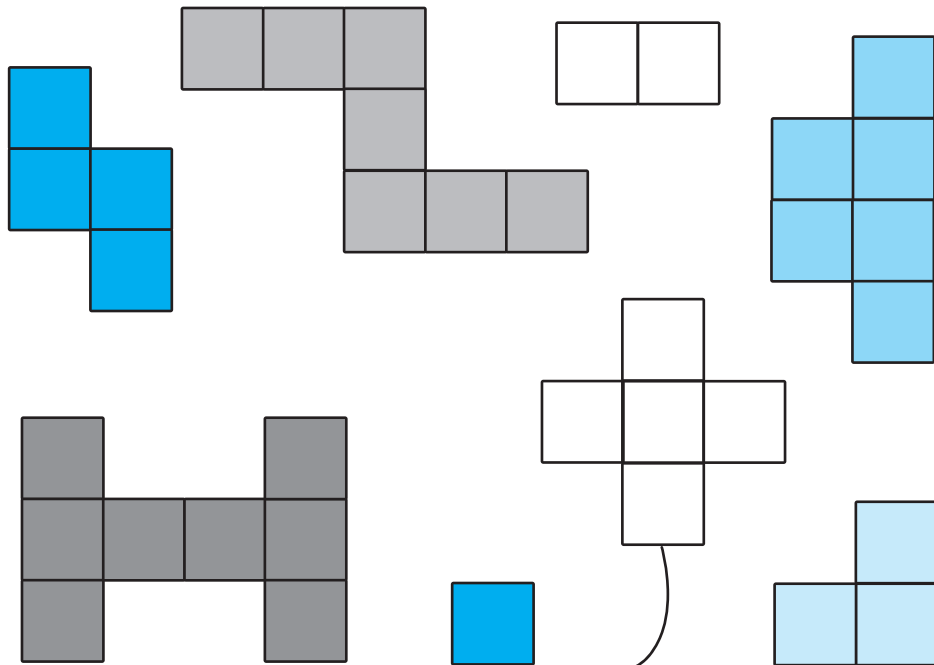
2

На картинках дети и их питомцы. Раскрась пятого по счёту. Это ребёнок или его питомец?



3**Пропиши.**


0	1	0	1																	
2	3	2	3																	
4	5	4	5																	
6	7	6	7																	
8	9	8	9																	

4**Сколько кубиков в каждой фигуре? Соедини фигуру с правильным числом.**

1 2 3 4 5 6 7 8


5

Сосчитай фигуры и запиши их количество.



6

Раскрась собак, выполняя условие задания. Раскрась 1 туловище, 7 ушей, 4 носа, 4 хвоста, 15 лап, 8 глаз так, чтобы одна собака осталась нераскрашенной.



Сколько лап у 2 собак?

Сколько глаз у 4 собак?

Сколько ушей у 3 собак?

Сколько носов у 6 собак?

Сколько хвостов у 7 собак?



Занятие 2

ПРЯМОЙ И ОБРАТНЫЙ СЧЁТ В ПРЕДЕЛАХ 10

1

Пропиши.

1	2	3	4	5	6	7	8	9	10
10	9	8	7	6	5	4	3	2	1

2

Вставь недостающие числа.

1		3	4		6			9	
10	9		7		5		3		

3


Восстанови числовой ряд. Впиши цифры в правильном порядке.



5 3 9 8 10 4 2 7 6 1


4

Посчитай картинки и укажи их количество.



5

Раскрась картинку по номерам.



1 — коричневый

2 — зелёный

3 — синий

4 — оранжевый

5 — жёлтый

6 — серый

7 — красный

8 — голубой

9 — чёрный