

Серия «Игронёс»

ПРЯТКИ



С ЦИФРАМИ

ГОТОВИМСЯ
К ШКОЛЕ

Издание 4-е

Ростов-на-Дону

 **ЕНИКС**
2023

УДК 372.3/.4

ББК 74.102

КТК 413

П85

П85 Прятки с цифрами : готовимся к школе / сост. Ольга Майдельман. — Изд. 4-е. — Ростов н/Д : Феникс, 2023. — 32 с. : ил. — (Игрое́с).

ISBN 978-5-222-38618-7

Серия книг для детей 5–6 лет содержит эффективную методику поиска заданных букв, слов, цифр и геометрических фигур, которая способствует активному развитию внимания, логики, зрительного восприятия. С помощью этих заданий ребенок легко и быстро осваивает буквы, тренирует навык чтения, запоминает цифры и геометрические фигуры. В книгах приведены разнообразные виды упражнений: квадраты, букволенты, шифровки по цифрам и многое другое. Сопутствующие задания позволят расширить знания об окружающем мире и развить речь.

УДК 372.3/.4
ББК 74.102

ЕАЭС



Учебно-методическое издание

ПРЯТКИ С ЦИФРАМИ. ГОТОВИМСЯ К ШКОЛЕ

Ответственный редактор

Д. Волкова

Технический редактор

Г. Логвинова

Формат 70 x 100¹/32. Бумага офсетная.

Тираж 4 000. Заказ №

Издатель и изготовитель: ООО «Феникс».

Юр. и факт. адрес: 344011, Россия, Ростовская обл.,

г. Ростов-на-Дону, ул. Варфоломеева, д. 150

Тел/факс: (863) 261-89-65, 261-89-50

Изготовлено в России. Дата изготовления: 08.2022. Срок годности не ограничен.

Отпечатано в ЗАО «Белгородское торгово-промышленное предприятие»

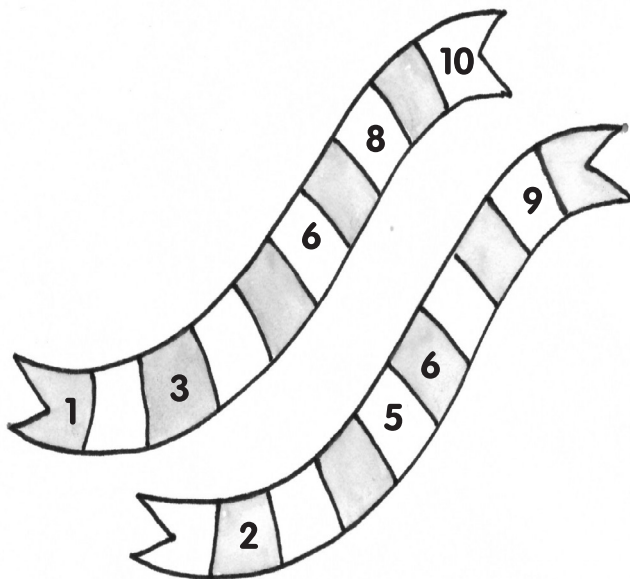
Юр. адрес: 308007, Россия, Белгородская область, г. Белгород, ул. Некрасова, д. 11.

Факт. адрес: 308015, Россия, Белгородская область, г. Белгород, ул. Победы, д. 147 «А»


ISBN 978-5-222-38618-7 © Составление: Майдельман О., 2020

© Оформление: ООО «Феникс», 2021



На полосатых ленточках были написаны числа. Некоторые из них пропали. Впиши на ленты пропущенные числа.




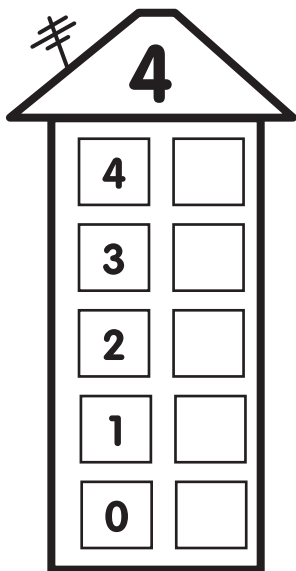
Пока лемур спал, числа сбежали с его хвоста. Найди их и впиши.



Найди и впиши числа, которые стоят до и после написанного числа.




За окошком спряталось число; угадай какое. Подсказка: на крыше — сумма чисел в обоих окошках.



Эту головоломку придумали японцы. Твоя задача — поделить всю область квадрата на прямоугольники в соответствии с числом клеток, которое указано. Находи прямоугольники и раскрашивай их разными цветами.

2			3	
	2	5		
6				3
			4	

Пройди математический лабиринт от стрелки до стрелки. Двигайся только по тем клеточкам, в которых в ответе получается 6. Помни, что ходить по диагонали нельзя.

$7+3$	$5+3$	$8-3$	$1+6$	$5+5$	$2+7$	$7-3$	$1+8$
$3+2$	$1+9$	$3+3$	$8-2$	$1+5$	$10-3$	$4+6$	$5+2$
 $2+4$	$5+1$	$10-4$	$7+7$	$9-3$	$1+6$	$6+6$	$9+3$
$7+9$	$9-2$	$7+5$	$1+5$	$7-1$	$3+3$	$5+8$	$5-1$
$4+4$	$1+6$	$3+2$	$2+2$	$7+6$	$4+2$	$12-5$	$8+9$
$10-8$	$5+5$	$4+9$	$10-4$	$5+1$	$12-6$	$9+4$	$1+3$
$1+1$	$4+6$	$3+4$	$2+4$	$20-10$	$6+6$	$7-5$	$4+4$
$7+8$	$2+1$	$9-4$	$3+3$	$1+5$	$8-2$	$10-4$	$5+6$