

УМНОЖЕНИЕ И ДЕЛЕНИЕ НА 1

1. Соедини стрелками примеры на деление и соответствующие им примеры на вычитание.

$$6 : 1 = \square$$

$$4 : 1 = \square$$

$$9 : 1 = \square$$

$$3 : 1 = \square$$

$$8 : 1 = \square$$

$$5 : 1 = \square$$

$$7 : 1 = \square$$

$$\square - 0 = 9$$

$$\square - 0 = 7$$

$$\square - 0 = 5$$

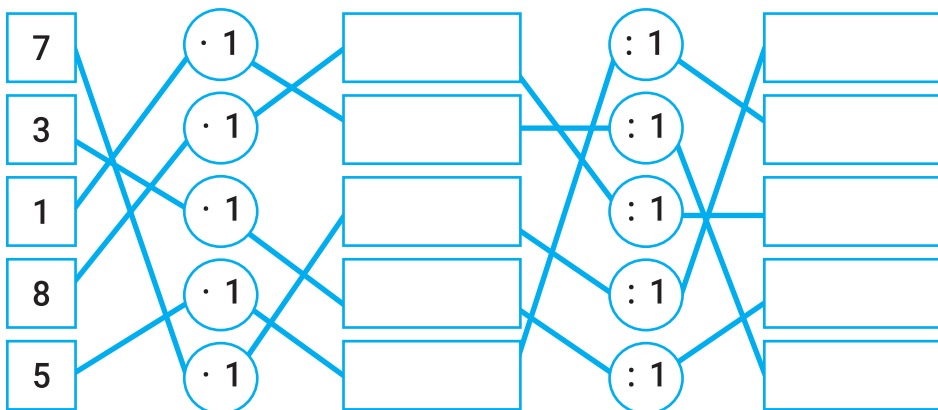
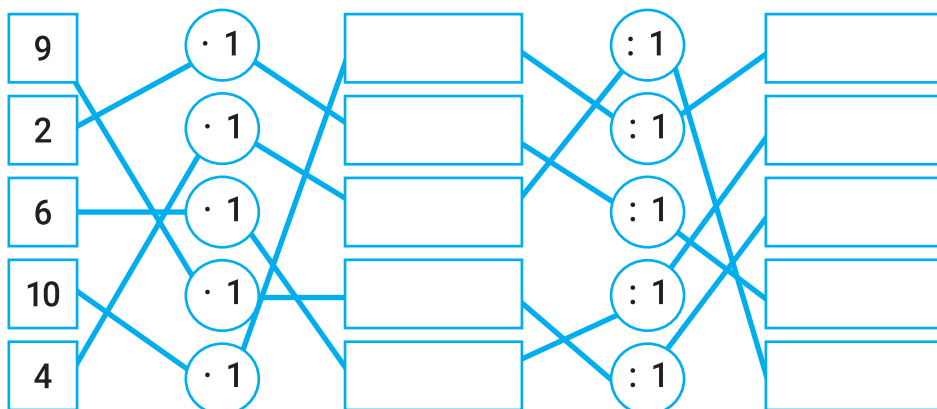
$$\square - 0 = 8$$

$$\square - 0 = 6$$

$$\square - 0 = 3$$

$$\square - 0 = 4$$

2. Реши примеры и заполни в схемах пропуски.



3. Реши примеры и расшифруй кодовое слово.

Примеры	9	2	5	8	3	6	1	10	7	4
$7 \cdot 1 =$	В	Й	Э	Г	У	М	З	Ы	К	Т
$5 \cdot 1 =$	С	Ц	А	Ь	Ц	В	Ш	В	Ф	Я
$9 \cdot 1 =$	Щ	У	Ж	Ю	Й	Е	Г	П	О	Ч
$2 \cdot 1 =$	М	Р	Д	Э	Г	Е	Е	О	Л	С
$10 \cdot 1 =$	Т	Е	Л	Ж	Е	Г	У	Б	Ц	В
$6 \cdot 1 =$	Ь	Г	О	Ъ	О	А	Ц	Л	Д	Е
$3 \cdot 1 =$	Ю	Ш	П	Ы	Н	З	Й	Д	Й	Г
$1 \cdot 1 =$	Я	З	В	Ф	П	Х	И	Л	Э	Т
$8 \cdot 1 =$	Ч	Х	Ы	А	В	Э	Ф	Д	Ю	Ь
$4 \cdot 1 =$	С	Ъ	Ф	Я	Ч	Ж	Я	Ы	М	Б

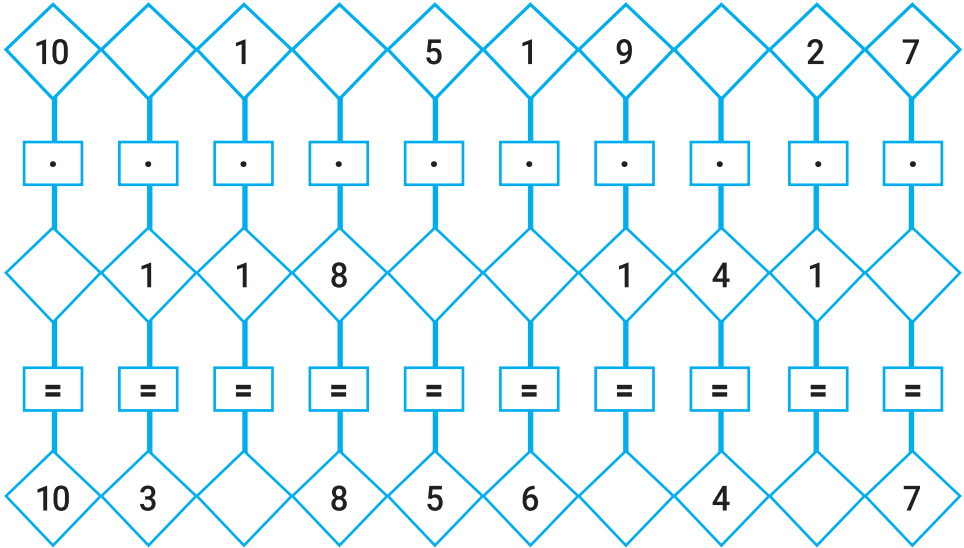
10	5	2	8	4	6	3	9	1	7

4. Реши примеры и расшифруй кодовое слово.

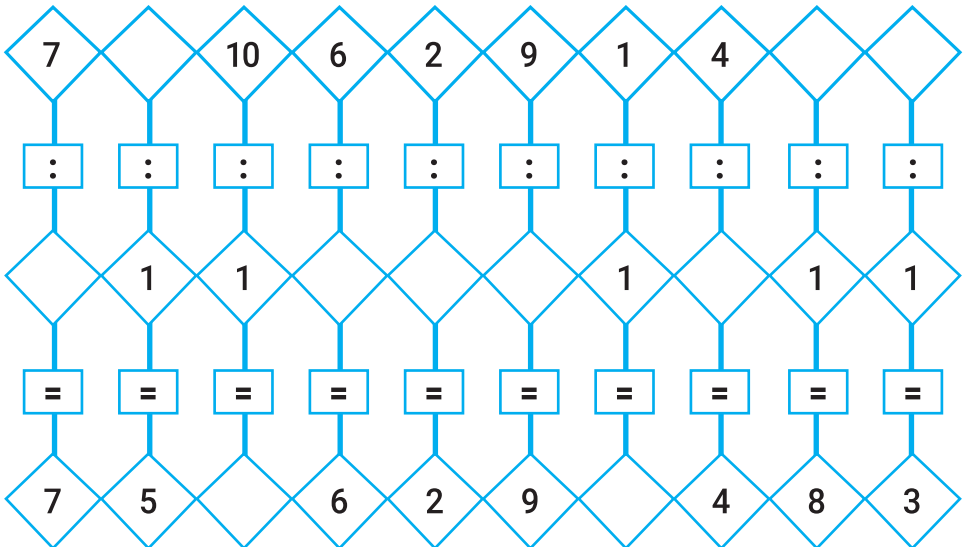
Примеры	9	2	5	8	3	6	1	10	7	4
$9 : 1 =$	О	Й	Э	Г	У	М	З	Ы	К	Т
$1 : 1 =$	С	Ц	А	Ь	Ц	С	В	С	Ф	Я
$3 : 1 =$	Щ	У	Ж	Ю	О	Е	Г	П	О	Ч
$7 : 1 =$	М	Р	Д	Э	Г	Е	Е	О	В	С
$4 : 1 =$	Т	Е	Л	Ж	Е	Г	У	Б	Ц	О
$8 : 1 =$	Ь	Г	О	Р	О	А	Ц	Л	Д	Е
$10 : 1 =$	Ю	Ш	П	Ы	Н	З	Й	О	Й	Г
$6 : 1 =$	Я	З	В	Ф	П	Д	И	Л	Э	Т
$2 : 1 =$	Ч	П	Ы	А	В	Э	Ф	Д	Ю	Ь
$5 : 1 =$	С	Ъ	Д	Я	Ч	Ж	Я	Ы	М	Б

1	9	5	10	2	8	4	7	3	6

5. Вставь в схемы с примерами на умножение пропущенные числа.



6. Вставь в схемы с примерами на деление пропущенные числа.



7. Вставь в клеточки пропущенные числа так, чтобы были записаны все случаи табличного умножения и деления на 1.

$$\begin{array}{l} 1 \cdot \square \\ + \\ 1 \cdot 10 \end{array} \rightarrow 11$$

$$\begin{array}{l} \square : 1 \\ - \\ \square : 1 \end{array} \rightarrow 1$$

$$\begin{array}{l} 1 \cdot \square \\ + \\ 1 \cdot \square \end{array} \rightarrow 11$$

$$\begin{array}{l} \square : 1 \\ - \\ \square : 1 \end{array} \rightarrow 1$$

$$\begin{array}{l} 1 \cdot \square \\ + \\ 1 \cdot \square \end{array} \rightarrow 11$$

$$\begin{array}{l} \square : 1 \\ - \\ \square : 1 \end{array} \rightarrow 1$$

$$\begin{array}{l} 1 \cdot \square \\ + \\ 1 \cdot \square \end{array} \rightarrow 11$$

$$\begin{array}{l} \square : 1 \\ - \\ \square : 1 \end{array} \rightarrow 1$$

$$\begin{array}{l} 1 \cdot \square \\ + \\ 1 \cdot \square \end{array} \rightarrow 11$$

$$\begin{array}{l} \square : 1 \\ - \\ \square : 1 \end{array} \rightarrow 1$$

УМНОЖЕНИЕ И ДЕЛЕНИЕ НА 2

1. Соедини стрелками примеры на деление и соответствующие им примеры на вычитание.

$$16 : 2 = \square$$

$$8 : 2 = \square$$

$$18 : 2 = \square$$

$$12 : 2 = \square$$

$$6 : 2 = \square$$

$$10 : 2 = \square$$

$$14 : 2 = \square$$

$$\square - 7 = 7$$

$$\square - 9 = 9$$

$$\square - 5 = 5$$

$$\square - 3 = 3$$

$$\square - 6 = 6$$

$$\square - 4 = 4$$

$$\square - 8 = 8$$

2. Реши примеры и заполни в схемах пропуски.

5	· 2	<input type="text"/>	: 2	<input type="text"/>
1	· 2	<input type="text"/>	: 2	<input type="text"/>
7	· 2	<input type="text"/>	: 2	<input type="text"/>
3	· 2	<input type="text"/>	: 2	<input type="text"/>
9	· 2	<input type="text"/>	: 2	<input type="text"/>

6	· 2	<input type="text"/>	: 2	<input type="text"/>
10	· 2	<input type="text"/>	: 2	<input type="text"/>
2	· 2	<input type="text"/>	: 2	<input type="text"/>
8	· 2	<input type="text"/>	: 2	<input type="text"/>
4	· 2	<input type="text"/>	: 2	<input type="text"/>

ОТВЕТЫ

Умножение и деление на 1: 3. Барабанщик. 4. Водопровод.

Умножение и деление на 2: 3. Переводчик. 4. Педагогика.

Умножение и деление на 3: 3. Мультфильм. 4. Комбинезон.

Умножение и деление на 4: 3. Дошкольник. 4. Законность.

Умножение и деление на 5: 3. Собеседник. 4. Повторение.

Умножение и деление на 6: 3. Предместье. 4. Клавиатура.

Умножение и деление на 7: 3. Громоотвод. 4. Ежедневник.

Умножение и деление на 8: 3. Взаимность. 4. Излишество.

Умножение и деление на 9: 3. Содержание. 4. Оглавление.

Умножение и деление на 10: 3. Пластмасса. 4. Сладко-
ежка.

Повторение: 4. Гололедица. 5. Секундомер.

СОДЕРЖАНИЕ

УМНОЖЕНИЕ И ДЕЛЕНИЕ НА 1.....	1
УМНОЖЕНИЕ И ДЕЛЕНИЕ НА 2.....	5
УМНОЖЕНИЕ И ДЕЛЕНИЕ НА 3.....	9
УМНОЖЕНИЕ И ДЕЛЕНИЕ НА 4.....	13
УМНОЖЕНИЕ И ДЕЛЕНИЕ НА 5.....	17
УМНОЖЕНИЕ И ДЕЛЕНИЕ НА 6.....	21
УМНОЖЕНИЕ И ДЕЛЕНИЕ НА 7.....	25
УМНОЖЕНИЕ И ДЕЛЕНИЕ НА 8.....	29
УМНОЖЕНИЕ И ДЕЛЕНИЕ НА 9.....	33
УМНОЖЕНИЕ И ДЕЛЕНИЕ НА 10.....	37
ПОВТОРЕНИЕ	41
ОТВЕТЫ	46

УДК 373.167:1:51
ББК 22.1я72
КТК 444
3-48

Зеленко С. В.

3-48 Таблица умножения : тренировка навыков счёта : 1–4 классы / С. В. Зеленко. — Изд. 2-е. — Ростов н/Д : Феникс, 2023. — 47 с. — (Школьный рюкзачок).

ISBN 978-5-222-39984-2

Сборник примеров, схем, математических шифровок на знание таблицы умножения призван развить кругозор ребёнка, повысить его интерес к простым математическим действиям, проверить уровень знания таблицы умножения. Сборник рассчитан на учащихся начальной школы.

УДК 373.167:1:51
ББК 22.1я72

Популярное издание



Зеленко Сергей Викторович

Таблица умножения

Тренировка навыков счёта. 1–4 классы

Ответственные редакторы: *Оксана Морозова,*
Наталья Калиничева
Технический редактор *Галина Логвинова*
Компьютерная верстка: *Елена Калитина*

Формат 70x100 1/16. Бумага офсетная. Тираж 2500. Заказ №

Издатель и Изготовитель: ООО «Феникс»
Юр. и факт. адрес: 344011, Россия, Ростовская обл.,
г. Ростов-на-Дону, ул. Варфоломеева, 150.
Тел./факс: (863) 261-89-50, 261-89-59.

Изготовлено в России. Дата изготовления: 04.2023.
Срок годности не ограничен.

Отпечатано в ООО «Издательство Вперед»
Место нахождения: 296500, Россия, Республика Крым,
г. Саки, ул. Первомайская, д. 14
Фактический адрес: 295047, Россия, Республика Крым,
г. Симферополь, ул. Узловая, дом 8, корпус ДРОБЬ 5

ISBN 978-5-222-39984-2

© С.В. Зеленко, текст, 2021
© ООО «Феникс», оформление, 2022
© В оформлении обложки использованы иллюстрации
по лицензии Shutterstock.com, 2022